

نام و نام خانوادگی: نام کلاس: نام پایه: نام آزمون: ریاضی	باسمه تعالی وزارت آموزش و پرورش اداره آموزش و پرورش شهرستان بندرگز دبستان دخترانه مرحوم گل	تاریخ آزمون: نام آموزگار: عسگری
--	---	---------------------------------------

۱) برای شمارش شکل ها، دسته های ده تایی جدا کنید و با کامل کردن جدول، تعداد شکل ها را بنویسید.




یکی	ده تایی
-----	---------

به عدد:.....

به حروف:.....

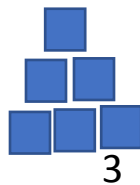
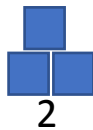
۲) امروز روز ۸ ماه است. ۷ روز بعد چه روزی از ماه است؟..... ماه است.



۳) الگوهای زیر را کامل کن عزیزم.

..... ۸ _ ۵ _ ۲

..... ۲۸ _ ۲۱



4

5


۴) به سوالات زیر پاسخ دهید.

الف) ساعت ۲ است. ۱۰ ساعت و ربع دیگر ساعت چند می شود؟

ب) اگر علی ۲۰ سکه ۱ ریالی به بانک بدهد، چند سکه ۱۰ ریالی می گیرد؟

پ) اگر فاطمه ۱۰۰ سکه ۱ ریالی به بانک بدهد چند سکه ۱۰ ریالی باید بگیرد؟

۵) دو شکل زیر را مقایسه کنید. شباهت ها و تفاوت های آن را بنویسید.



۶) جمع و تفریق های زیر را به صورت تقریبی حساب کنید.

$$\begin{array}{r} 47 \quad \dots\dots\dots \\ + 22 \quad + \quad \dots\dots\dots \\ \hline \end{array}$$

$$\begin{array}{r} 39 \quad \dots\dots\dots \\ + 29 \quad + \quad \dots\dots\dots \\ \hline \end{array}$$

۷) همه ی اعداد دو رقمی که رقم یکان آن ۳ و ۴ و دهگان آن ۶ و ۸ باشد بنویس. با استفاده از روش شاخه ای و منظم بنویسید.

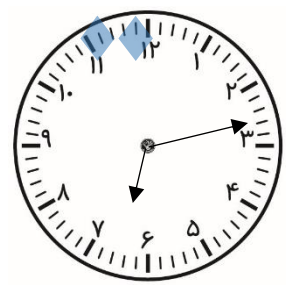
۸) حاصل جمع و تفریق زیر را به صورت فرآیندی (مرحله ای) حل کنید.

$$\begin{array}{r} 35 \\ + 24 \\ \hline \end{array}$$

$$\begin{array}{r} 95 \\ - 77 \\ \hline \end{array}$$

جزوه سستی

۹) ساعت چند است؟



۱۰) زهرا ۸ صدف از ساحل جمع کرد و آنها را به برادرش علی که ۵ صدف جمع کرده بود، داد. حالا برادرش چند صدف دارد؟ شکل بکش

ن ت	ق ق	خ	خ خ	۱) عددنویسی نویسی به حروف و دسته بندی شکلها
				۲) شکلهای هندسی را تشخیص می دهد و به درستی الگویابی می کند.
				۳) ساعت و دقیقه را خوب تشخیص می دهد و ربع و نیم را می داند.
				۴) جمع و تفریق فرآیندی و تقریب را به درستی انجام می دهد.
				۵) مسئله را به درستی تحلیل و حل می کند و برای جمع به درستی شکل می کشد

تاریخ آزمون:	باسمه تعالی وزارت آموزش و پرورش اداره آموزش و پرورش شهرستان بندرگز دبستان دخترانه مرحوم گل	نام و نام خانوادگی: نام کلاس: نام پایه: نام آزمون: ریاضی
نام آموزگار: عسگری		

جزوه سیپی